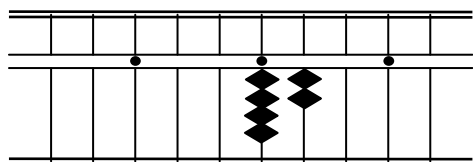


かけ算(両落し)

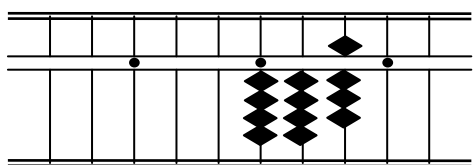
1. 64×7 の場合

①頭の中で7の段の問題だと認識します。

② $7 \times 6 = 42$ を定位点のところから置きます。



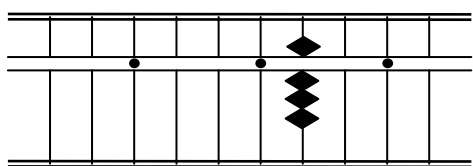
③ $7 \times 4 = 28$ を定位点の1つ右のところから置きます。



2. 24×4 の場合

①頭の中で4の段の問題だと認識します。

② $4 \times 2 = 8$ を定位点の1つ右のところに置きます。



(十の位がないので)

③ $4 \times 4 = 16$ を定位点の1つ右のところから置きます。

